



## САМОСТОЯТЕЛНА РАБОТА № 2

Име: \_\_\_\_\_ III клас № \_\_\_\_\_ Дата: \_\_\_\_\_

ТЕМА:

### ЧИСЛАТА ДО 1 000 – ЧЕТЕНЕ, ПИСАНЕ, СРАВНЯВАНЕ. ПРАВА И КРИВА ЛИНИЯ, ЛЪЧ

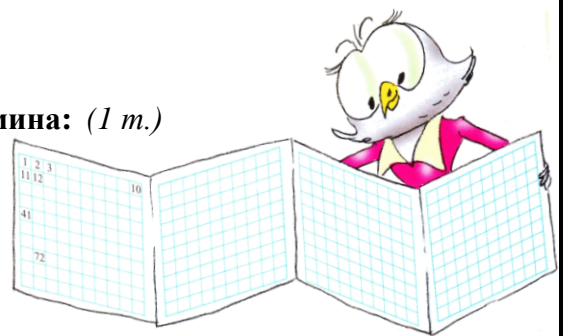
Огради верния отговор

Зад.1. В кой от редовете всички числа са трицифрени: (1 т.)

- а) 111, 204, 300, 30, 404, 526;
- б) 100, 150, 16, 179, 333, 1000;
- в) 101, 548, 310, 600, 742, 999.

Зад.2. В кой от редовете числата са подредени по големина: (1 т.)

- а) 202, 210, 300, 230, 331, 431;
- б) 507, 570, 705, 750, 759, 760;
- в) 803, 308, 380, 388, 839, 840.



Зад.3. Кое е името на записаното число: (1 т.)



- а) деветстотин деветдесет и девет;
- б) деветстотин и девет;
- в) деветстотин и деветдесет.

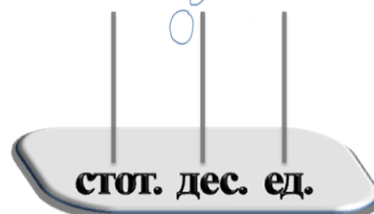
Зад.4. На кое от записаните числа е името: (1 т.)



- а) 567;
- б) 576;
- в) 765.

Зад.5. В коя колонка всички числа са представени правилно: (2 т.)

- а)  $654 = 6 \text{ стот.} + 5 \text{ дес.} + 4 \text{ ед.}$
- б)  $308 = 3 \text{ стот.} + 0 \text{ дес.} + 8 \text{ ед.}$
- $456 = 4 \text{ стот.} + 5 \text{ дес.} + 6 \text{ ед.}$
- $328 = 3 \text{ стот.} + 2 \text{ дес.} + 8 \text{ ед.}$
- $564 = 5 \text{ стот.} + 4 \text{ дес.} + 6 \text{ ед.}$
- $382 = 3 \text{ стот.} + 8 \text{ дес.} + 2 \text{ ед.}$



Зад.6. Коя е цифрата в реда на десетиците на записаното число: (1 т.)



- а) 7;
- б) 8;
- в) 9.

Зад.7. Кое е числото, което е с 1 по-голямо от 569: (1 т.)

- а) 590;
- б) 600;
- в) 570.



Зад.8. Кои са пропуснатите числа: (2 т.)



- а) 398, 399, 401, 402;
- б) 401, 400, 399, 398;
- в) 403, 404, 405, 406.

Зад.9. Кое число е между 739 и 741: (1 т.)

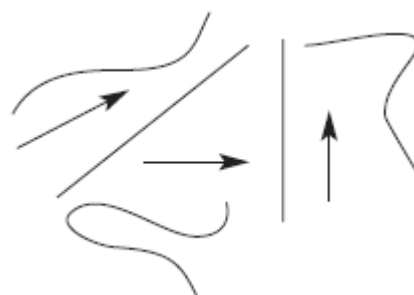
- а) 700;
- б) 740;
- в) 800.

Зад.10. Между кои числа е числото 499: (2 т.)

- а) 498 и 500;
- б) 489 и 498;
- в) 488 и 490.

Зад.11. В коя колонка всички отговори са верни: (2 т.)

- а) кривите са 3  
правите са 3  
лъчите са 2
- б) кривите са 3  
правите са 2  
лъчите са 3




**Скала за оценка:**

- 14 – 15 т. (Отличен)
- 11 – 13 т. (Много добър)
- 8 – 10 т. (Добър)
- 5 – 7 т. (Среден)
- 0 – 4 т. (Слаб)

Максимален брой точки: **15**

Брой точки за верни отговори:



**Оценка:**

Проверил: .....



Уважаеми родители,  
Табличката ще Ви ориентира за мястото  
на Вашето дете в момента.

Родител: .....

Оценка	6	5	4	3	2
Брой уч-ци					

*Забележка:* Самостоятелната работа №2 е от Книгата за учителя по математика 3. клас, автори - Ангелина Манова, Рени Рангелова, Юлияна Гарчева. Издателство „Просвета - София”, 2004, 2008 г.

**Подготовка и оформление:** Руска Тодорова