


САМОСТОЯТЕЛНА РАБОТА № 1

Име: _____ III клас № _____ Дата: _____



ЗНАНИЯ И УМЕНИЯ ПО МАТЕМАТИКА В НАЧАЛОТО НА 3. КЛАС

Входно равнище

Зад.1. Пресметни и огради буквата пред верния отговор. (6 x 1 т.)



44	a) 67	47	a) 78	54	a) 90
$+ 32$	б) 76	$+ 29$	б) 66	$+ 46$	б) 94
.....	в) 12	в) 76	в) 100
87	a) 43	90	a) 53	78	a) 41
$- 46$	б) 51	$- 47$	б) 43	$- 39$	б) 49
.....	в) 41	в) 57	в) 39

Зад.2. Пресметни и огради буквата пред верния отговор. (2 x 2 т.)

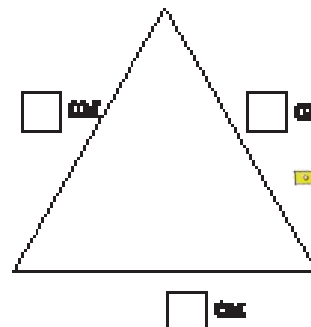
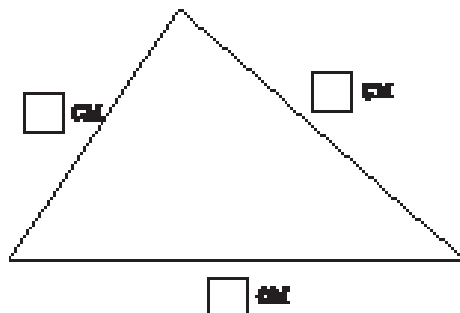
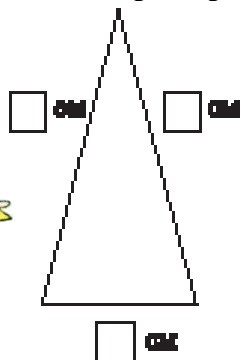
$87 - 7 \cdot 7 =$	a) 48	$72 : (80 - 72) =$	a) 9
$= \dots\dots\dots$	б) 38	$= \dots\dots\dots$	б) 8
$= \dots\dots$	в) 49	$= \dots\dots\dots$	в) 7



Зад.3. Вярно ли е, че ...? Огради верния отговор. (3 x 2 т.)

$28 + 35 < 7 \cdot 9$	a) да	$81 : 9 > 18 : 2$	a) да	$9 : 1 = 9 - 0$	a) да
.....	б) не	б) не	б) не

Зад.4. Измери страните на триъгълниците и огради верния отговор. (3 x 2 т.)



- | | | |
|--|----|----|
| a) Обиколката на равностранния триъгълник е 12 см. | Да | Не |
| б) Обиколката на равнобедрения триъгълник е 10 см. | Да | Не |
| в) Обиколката на разностранния триъгълник е 15 см. | Да | Не |



Зад.5. Реши задачата и я свържи с нейното решение. (3 т.)



Обиколката на квадрат е 24 см.
Колко сантиметра е дълга страната му?

$$24 \text{ см} : 3 = 8 \text{ см}$$

$$24 \text{ см} : 4 = 6 \text{ см}$$

Решение:

Отг.: см е дълга страната на квадрата.

Зад.6. Реши задачата и я свържи с нейното решение. (3 т.)

В едно училище има 33 деветгодишни третокласници и 28 осемгодишни третокласници. От тях 39 са момичета, а останалите – момчета.

$$33 + 28 + 39 = 100$$

$$(33 + 28) - 39 = 22$$

Колко са момчетата в трети клас?

Решение:

.....
.....

Отг.: са момчетата в трети клас.




Скала за оценка:

- 25 – 28 т. (Отличен)
- 20 – 24 т. (Много добър)
- 15 – 19 т. (Добър)
- 10 – 14 т. (Среден)
- 0 – 9 т. (Слаб)

Максимален брой точки: **28**

Брой точки за верни отговори:

Оценка:



Проверил:

Родител:



*Уважаеми родители,
Табличката ще Ви ориентира за мястото
на Вашето дете в момента.*

Оценка	6	5	4	3	2
Брой уч-ци					

Забележка: Примерният тест е от предложената самостоятелна работа №1 в Книгата за учителя по математика 3. клас, автори: Ангелина Манова, Рени Рангелова, Юлияна Гарчева. „Просвета - София”, 2004, 2008 г.

Подготовка и оформление: Руска Годорова